

NOM :

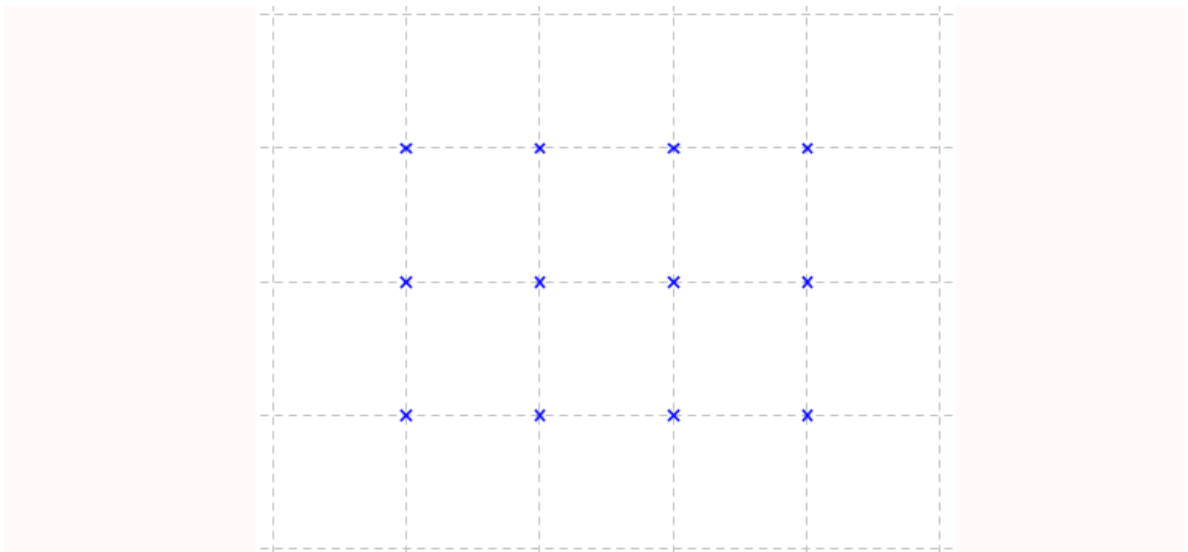
Prénom :

Classe :

**Énigme du vendredi 13 mars :**

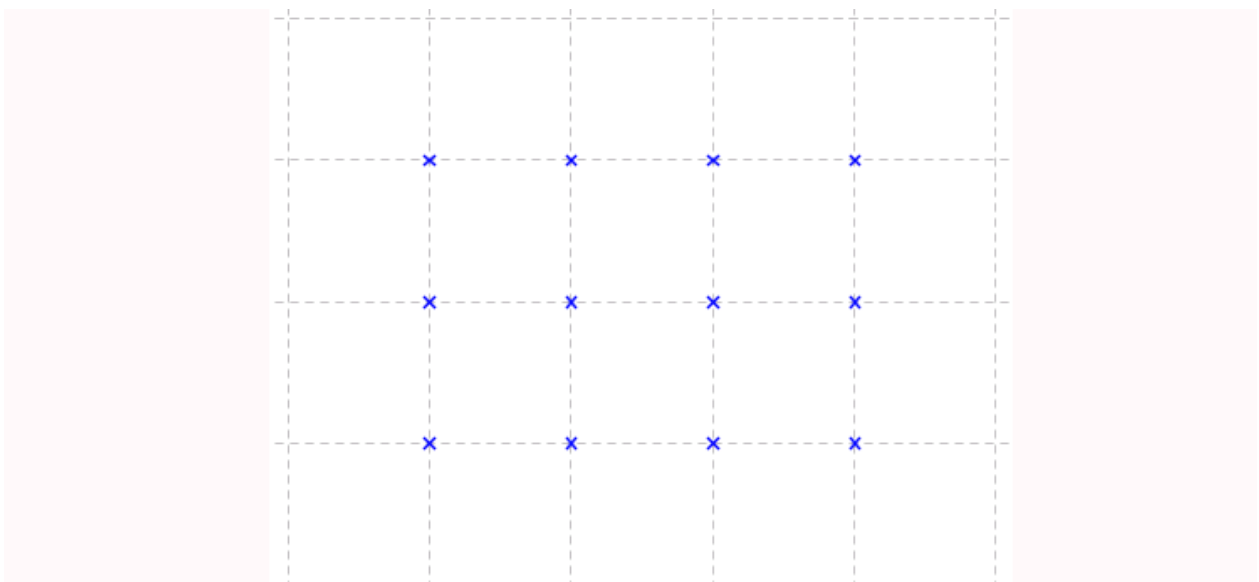
**6èmes / 5èmes :**

La figure ci-dessous représente 12 points sur les sommets de 6 carrés d'un quadrillage.



**Construire**, sans lever le crayon de la feuille de papier, **une ligne** continue formée de cinq segments de droite, **passant par les douze points** de la figure, et fermée, c'est à dire **qui se termine par le point de départ**.

**Réponse :**



NOM :

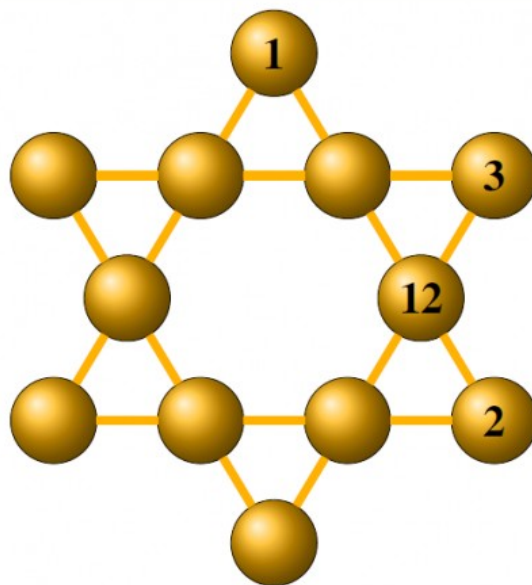
Prénom :

Classe :

Énigme du vendredi 13 mars :

4èmes / 3èmes :

Dans les vestiaires, Antoine s'est amusé à placer les maillots des 12 joueurs de foot de son équipe (11 titulaires et remplaçant) de telle sorte que la somme de 4 nombres alignés soit toujours la même.



Place les nombres de 4 à 11 dans les emplacements manquants.

Réponse :

